









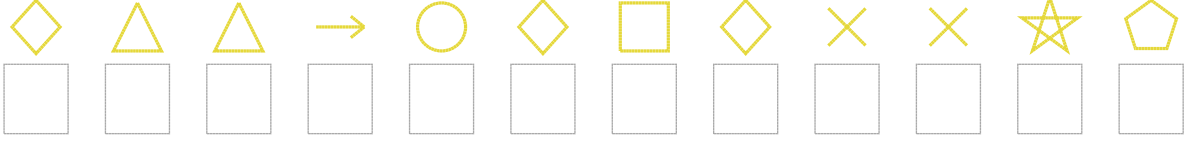


# Şekil Sayı Eşleştirme

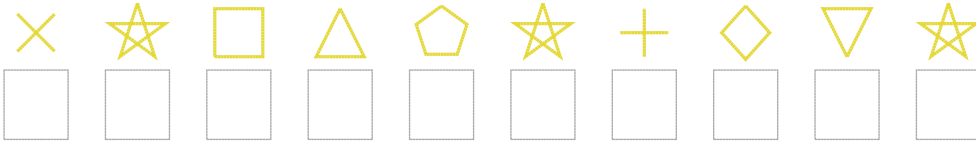
 = 9	 = 6	 = 7	 = 2	 = 5	 = 4	 = 0	 = 3	 = 1	 = 8
--	--	--	--	--	--	--	--	--	--

Aşağıdaki uzun şifreleri hatasız çözerek altlarına yazın:

1. Şifre



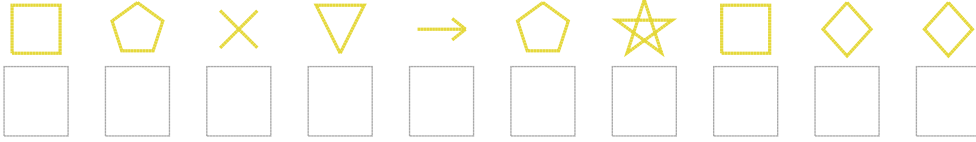
2. Şifre



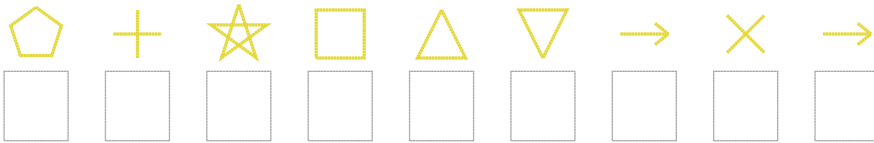
3. Şifre



4. Şifre



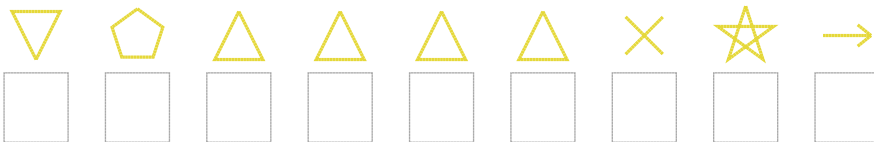
5. Şifre



6. Şifre



7. Şifre



❑ BONUS: 6. ve 5. şifrenin üçüncü rakamının toplamı kaçtır? .....

## Cevap Anahtarı

1. Şifre: 211072528893

2. Şifre: 8951396249

3. Şifre: 538538798898

4. Şifre: 5384039522

5. Şifre: 369514080

6. Şifre: 327319083377

7. Şifre: 431111890

□ Bonus Soru Cevabı: 16